


**КОНТРОЛЬНАЯ РАБОТА по математике за 2019-2020 учебный год.  
1 класс. 1-вариант.**

Фамилия, имя \_\_\_\_\_

**1.** Внимательно рассмотри рисунок и **запиши ответы на вопросы ОДНИМ словом.**



1) Кто живёт выше - мышка или белочка?

**Ответ:** \_\_\_\_\_ .

2) Лиса видит обезьянку слева или справа от себя?

**Ответ:** \_\_\_\_\_ .

3) Что ближе к обезьянке - дверь или яблоня?

**Ответ:** \_\_\_\_\_ .

**2. Запиши числа:**


|              |                      |
|--------------|----------------------|
| пять-        | <input type="text"/> |
| шестнадцать- | <input type="text"/> |
| десять-      | <input type="text"/> |
| двенадцать-  | <input type="text"/> |
| двадцать-    | <input type="text"/> |

**Закрась синим цветом НАИБОЛЬШЕЕ** число.

**3. Вычисли:**

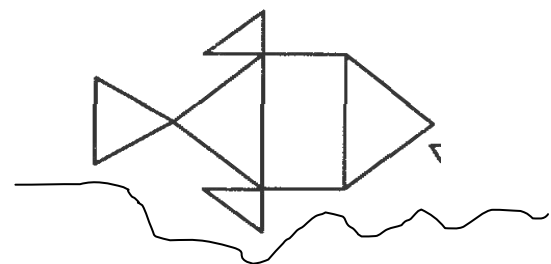
|               |               |             |               |
|---------------|---------------|-------------|---------------|
| $4 + 2 =$     | $10 - 5 =$    | $10 + 4 =$  | $9 + 1 + 2 =$ |
| $8 + 1 =$     | $9 - 8 =$     | $6 + 10 =$  | $7 + 7 =$     |
| $3 + 5 =$     | $5 - 5 =$     | $7 + 3 =$   | $6 + 5 =$     |
| $4 + 4 - 2 =$ | $9 - 3 + 4 =$ | $15 - 5 =$  | $11 + 8 =$    |
| $2 + 3 + 1 =$ | $7 - 4 - 1 =$ | $16 - 10 =$ | $15 - 3 =$    |

**4. Впиши пропущенные числа.**




**5. Сколько ТРЕУГОЛЬНИКОВ на рисунке?**

Запиши ответ \_\_\_\_\_ .



**6. Прочитай и реши задачу.**

Егору нужно раскрасить 12 котят, он раскрасил уже 7 котят. Сколько котят осталось раскрасить Егору?



**Ответ:** Егору осталось раскрасить \_\_\_\_\_ котят.

**7. Выбери** число, которое на 3 больше, чем 10. Отметь его значком




3

7

12

13

**8.** Рассмотрй рисунок. Для ответа на КАКИЕ ВОПРОСЫ к рисунку нужно **выполнить действие ВЫЧИТАНИЯ**? Отметь эти вопросы значком .



- Сколько всего мячей и кубиков?
- На сколько больше кубиков, чем мячей?
- Каких предметов меньше: мячей или кубиков?
- Сколько станет мячей, если к ним добавить ещё один ?

**9. Прочитай и реши задачу.**

Папа поймал 6 рыбок, а сын – на 4 рыбки меньше. Сколько рыбок поймали папа и сын вместе?

1)

2)

**Ответ:** \_\_\_\_\_ .

**10.** Лена рисует квадраты по правилу. Определи это правило и нарисуй следующий квадрат.

